


2.SINIF DÖNEM MATEMATİK GENEL DEĞERLENDİRME -6

$$29 + \text{⬡} = 60$$

$$72 - \text{★} = 55$$

1. Yukarıdaki işlemlere göre $\text{⬡} + \text{★}$ sonucu kaçtır?
A) 48 B) 38 C) 28

27 bilyemiz var. Ali, ben ve Ahmet paylaşmak istiyoruz.



2. Çocukların her birine kaç bilye düşer?
A) 9 B) 8 C) 3

3. Büşra ile ablasının yaşları toplamı 28'dir. 3 yıl sonra yaşları toplamı kaç olur?
A) 31 B) 34 C) 35

Sınıfımızda 1 düzine erkek ve 1 deste kız öğrenci vardır.

4. Yukarıdaki bilgilere göre aşağıdakilerden hangisi yanlıştır?
A) Sınıfımızda toplam 22 öğrenci vardır.
B) Kızları 2'şerli gruplarsam 5 grup oluşur.
C) Sınıfa 2 öğrenci daha gelirse topla öğrenci sayısı 2 deste olur.

5.



Yandaki şeklin kaç tane köşesi vardır?

- A) 4 B) 6 C) 8



6. Yusuf'un kumbarasında yukarıdaki miktar kadar parası vardır. Yusuf kumbarasına her gün 50 kuruş atarsa kaç gün sonra 15 TL'si olur?
A) 3 B) 6 C) 5

22:00



7.



Mustafa'nın akşam uyuduğu ve sabah kalktığı saatler verilmiştir. Buna göre Mustafa kaç saat uyumuştur?

- A) 8 B) 9 C) 10

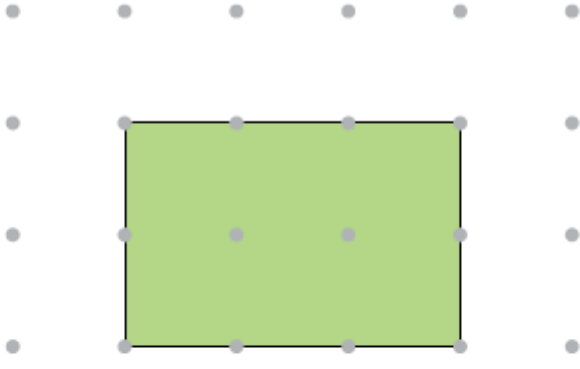
8.




Ben hafta içi günlerde yarım, hafta sonu günlerde çeyrek ekmek tüketiyorum.


- Mert'in verdiği bilgiye göre aşağıdakilerden hangisi yanlıştır?
A) 1 haftada, 3 bütün ekmek yemiştir.
B) 1 haftada, 7 yarım ekmek tüketmiştir.
C) 1 haftada, 12 çeyrek ekmek tüketmiştir.

9. Yarın günlerden pazartesi ise dün gün-
ler den neydi?
A) Cumartesi B) Pazar C) Cuma




10. Noktalı kağıtta verilen şekil aşağıdaki
geometrik şekillerden hangisinin bir yüzü
olamaz?
A) üçgen prizma B) kare prizma C) küp

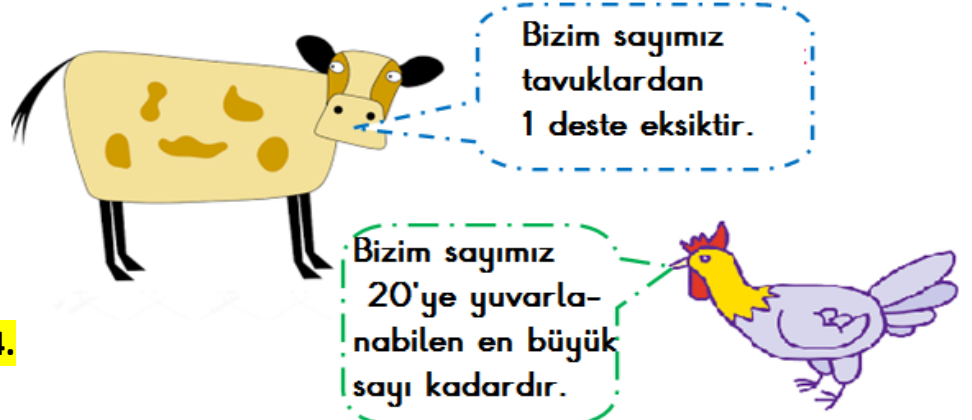
11. 
2 bütün, 1 yarım ve 2 çeyrek pastanın
tamamı kaç yarım pasta yapar?
A) 6 B) 12 C) 3

12. 
Asmin 4 kilogram elma ve 2 kilogram
muz alıyor. Parasını ödeyip 3 lira para
üstü almıştır.
Asmin manava kaç lira vermiştir?
A) 25 B) 22 C) 30

13. Asmin pencereden dışarı baktığında,
aşağıdaki gibi parktaki kanguruların
yarısını görüyor.



- Bu parkta kaç tane kanguru vardır?
A) 6 B) 12 C) 13

14. 

- Yukarıdaki hayvanların verdiği bilgiye göre bu çiftlikte
toplam kaç tane hayvan vardır?
A) 31 B) 38 C) 40

15. 

- Birgül yukarıdaki ürünlerin her birinden
2'sher tane almıştır.
Birgül'ün cebinde 20 lira olduğuna
göre kaç liraya daha ihtiyacı vardır?
A) 6 B) 7 C) 8

16. 

- Yukarıdaki sayıdan başlayarak ileriye
doğru 5'er ritmik sayma yaparsam 3.
söylediğim sayı kaç olur?
A) 39 B) 34 C) 29